

සියලු ම හිමිකම් ඇවිරිණි / முழுப் பதிப்புரிமையுடையது / All Rights Reserved

ශ්‍රී ලංකා විභාග දෙපාර්තමේන්තුව
 இலங்கைப் பரீட்சைத் திணைக்களம்
 Department of Examinations, Sri Lanka
 இலங்கைப் பரීட்சைத் திணைக்களம்
 Department of Examinations, Sri Lanka

අධ්‍යයන පොදු සහතික පත්‍ර (උසස් පෙළ) විභාගය, 2021(2022)
கல்விப் பொதுத் தராதரப் பத்திர (உயர் தர)ப் பரீட்சை, 2021(2022)
General Certificate of Education (Adv. Level) Examination, 2021(2022)

ආර්ථික විද්‍යාව I
பொருளியல் I
Economics I

21 S I

පැය දෙකයි
இரண்டு மணிநேரம்
Two hours

උපදෙස්:

- * සියලු ම ප්‍රශ්නවලට පිළිතුරු සපයන්න.
- * උත්තර පත්‍රයේ නියමිත ස්ථානයේ ඔබේ විභාග අංකය ලියන්න.
- * උත්තර පත්‍රයේ පිටුපස දී ඇති උපදෙස් ද සලකිල්ලෙන් කියවා පිළිපදින්න.
- * 1 සිට 50 තෙක් එක් එක් ප්‍රශ්නයට (1), (2), (3), (4), (5) යන පිළිතුරු ලිඛිතව දීමට හෝ ඉතාමත් ඉක්මනින් පිළිතුරු තෝරාගෙන, එය උත්තර පත්‍රයේ පිටුපස දැක්වෙන උපදෙස් පරිදි කතිරයක් (X) යොදා දැක්වන්න.

1. ආර්ථික විද්‍යාව පිළිබඳ වඩාත් සම්පූර්ණ කෙටි නිර්වචනයක් වනුයේ ආර්ථික විද්‍යාව යනු,
 - (1) තම පුරවැසියන්ට වඩාත් යහපත් තත්වයක් ඇති කිරීම සඳහා සමාජයේ රැකියා අවස්ථා නිර්මාණය කළ හැක්කේ කෙසේ ද යන්න අධ්‍යයනය කිරීම ය.
 - (2) රටවල් ගෝලීය වෙළෙඳ පොළක භාණ්ඩ හා සේවා වෙළෙඳාම් කරනුයේ කෙසේ ද යන්න අධ්‍යයනය කිරීම ය.
 - (3) පරිසරයට හානියක් නොවන පරිදි භාණ්ඩ හා සේවා නිෂ්පාදනය කරනු ලබන්නේ කෙසේ ද යන්න අධ්‍යයනය කිරීම ය.
 - (4) සීමිත වුවමනා අතර අසීමිත සම්පත් බෙදා වෙන්කරනු ලබන්නේ කෙසේ ද යන්න අධ්‍යයනය කිරීම ය.
 - (5) අසීමිත වුවමනා සපුරාලීම සඳහා හිඟ සම්පත් බෙදා වෙන්කරනු ලබන්නේ කෙසේ ද යන්න අධ්‍යයනය කිරීම ය.

2. නිෂ්පාදන හැකියා පර්යන්තයන් සරල රේඛීය වනුයේ,
 - (1) සම්පත් පූර්ණ වශයෙන් සහ කාර්යක්ෂමව උපයෝජනය කරමින් පවත්නා නිසා ය.
 - (2) වැඩෙන ආවස්ථික පිරිවැය නීතිය නිසා ය.
 - (3) ආර්ථිකයේ පවත්නා අකාර්යක්ෂමතා නිසා ය.
 - (4) ආවස්ථික පිරිවැය ස්ථාවර වීම නිසා ය.
 - (5) සම්පත් සමජාතීය නොවීම නිසා ය.

3. පහත සඳහන් කවරක් නිදහස් වෙළෙඳ පොළ ආර්ථිකයෙහි මූලික ලක්ෂණයක් වේ ද ?
 - (1) නිෂ්පාදනය පිළිබඳ රජයේ දැඩි පාලනය
 - (2) අපනයනවලට වඩා වැඩි ආනයන
 - (3) සම්පත් පිළිබඳ පොදු අයිතිය
 - (4) පෞද්ගලික දේපල
 - (5) රජය විසින් නියමකළ මිල සහ වැටුප්

4. ශ්‍රමික විභාජනයෙන් අත්වන ප්‍රතිලාභයක් නොවන්නේ කුමක් ද ?
 - (1) ශ්‍රම බලකායේ නම්‍යශීලීත්වය ඉහළ යාම
 - (2) භාණ්ඩ හා සේවා නිෂ්පාදනය කිරීමේ මුළු පිරිවැය පහළ යාම
 - (3) ඵලදායීතාව ඉහළ යාම
 - (4) නවෝත්පාදන හඳුන්වාදීමේ හැකියාව ඉහළ යාම
 - (5) ආදායම් සමතාව ඉහළ යාම

5. සහල් මිල වැඩිවන විට අපේක්ෂා කරනුයේ
 - (1) සහල් ඉල්ලුම් කරනු ලබන ප්‍රමාණයේ වැඩි වීමකි.
 - (2) සහල් සැපයුම් කරනු ලබන ප්‍රමාණයේ අඩු වීමකි.
 - (3) සහල් ඉල්ලුම් කරනු ලබන ප්‍රමාණයේ අඩු වීමකි.
 - (4) සහල් ඉල්ලුම අඩු වීමකි.
 - (5) සහල් සැපයුම වැඩි වීමකි.

6. ඇඟලුම් නිෂ්පාදනයේ ප්‍රධාන යෙදවුමක් වන්නේ රෙදිපිළි බව සලකන්න. අනෙකුත් කරුණු නො වෙනස් ව තිබිය දී, රෙදිපිළි මිල පහළ බසී නම්, එහි දී අපේක්ෂා කරනුයේ,
 - (1) රෙදිපිළි ඉල්ලුම පහළ යාමකි.
 - (2) ඇඟලුම් සැපයුම ඉහළ යාමකි.
 - (3) ඇඟලුම් සැපයුම පහළ යාමකි.
 - (4) ඇඟලුම් ඉල්ලුම ඉහළ යාමකි.
 - (5) ඇඟලුම් ඉල්ලුම පහළ යාමකි.
7. X භාණ්ඩයේ සැපයුම් ශ්‍රිතය, $Q_s = 8P$ සමීකරණයෙන් දැක්වෙන අතර, එහි P භාණ්ඩයේ මිලත් Q_s සැපයුම් කරනු ලබන ප්‍රමාණයත් පෙන්නුම් කරයි. මෙම සමීකරණයට අනුව X භාණ්ඩයේ සැපයුමෙහි මිල නම්‍යතාව
 - (1) 1.0 කි.
 - (2) -1.0 කි.
 - (3) 8.0 කි.
 - (4) -8.0 කි.
 - (5) 0.1 කි.
8. අලිගැටපේර සඳහා ඇති වෙළෙඳ පොළ එකවර සිදුවීම් දෙකකට මුහුණ පා ඇතැයි සලකමු. අලිගැටපේර සැපයුමට බලපාන දැඩි නියඟයක් පැවැතිය දී පිළිකා රෝග වළක්වා ගැනීමට උපකාරී විය හැකි ඖෂධීය ගුණ අලිගැටපේරවල අඩංගු බව පර්යේෂණයක් මගින් පෙන්වා දී තිබේ. මෙම සිදුවීම් දෙක අලිගැටපේර වෙළෙඳ පොළෙහි සමතුලිත මිල හා සමතුලිත ප්‍රමාණය කෙරෙහි කෙසේ බලපානු ලබන්නේ ද ?

	සමතුලිත මිල	සමතුලිත ප්‍රමාණය
(1)	වැඩි වේ.	අඩු වේ.
(2)	වැඩි වේ.	වැඩි වේ.
(3)	අඩු වේ.	අඩු වේ.
(4)	වැඩි වේ.	අවිනිශ්චිත වේ.
(5)	අඩු වේ.	අවිනිශ්චිත වේ.

9. X භාණ්ඩය සඳහා ඇති වෙළෙඳ පොළ දැනට සමතුලිතයෙහි පවතී යැයි සලකන්න. X භාණ්ඩයේ සමතුලිත මිල සහ සමතුලිත ප්‍රමාණය යන දෙකම අඩු කිරීමට හේතු නොවන්නේ පහත සඳහන් කවර සිදුවීමක් ද ?
 - (1) X භාණ්ඩය සඳහා අනුපූරක භාණ්ඩයක් වන Y භාණ්ඩයේ මිල ඉහළ යාම.
 - (2) X භාණ්ඩය සඳහා ආදේශක භාණ්ඩයක් වන Y භාණ්ඩයේ මිල පහළ යාම.
 - (3) X භාණ්ඩය සාමාන්‍ය භාණ්ඩයක් වීම සහ පාරිභෝගික ආදායම පහළ යාම.
 - (4) X භාණ්ඩය බාල භාණ්ඩයක් වීම සහ පාරිභෝගික ආදායම ඉහළ යාම.
 - (5) X භාණ්ඩය සඳහා ඇති වෙළෙඳ පොළෙහි ගැනුම්කරුවන් සංඛ්‍යාව ඉහළ යාම.

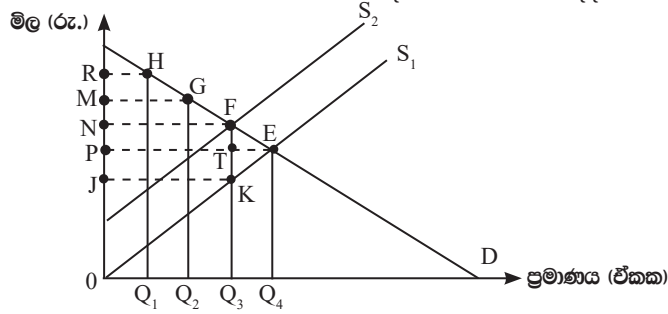
10. එක්තරා කුඩා නගරයක පලාකොළ සඳහා ඇති දෛනික වෙළෙඳ පොළ ඉල්ලුම හා සැපයුම පහත සඳහන් වගුවේ පෙන්නුම් කරයි.

කිලෝ ග්‍රෑම්ක මිල (රු.)	දෛනික ඉල්ලුම් ප්‍රමාණය (කි.ග්‍රෑ.)	දෛනික සැපයුම් ප්‍රමාණය (කි.ග්‍රෑ.)
60	220	310
55	240	300
50	260	290
45	280	280
40	300	270

ප්‍රවාහන වියදම් ඉහළ යාම නිසා පලාකොළ සැපයුම සෑම මිලක දී ම කිලෝ ග්‍රෑම් 60 කින් අඩු වේ යැයි සලකන්න. පලාකොළ සඳහා අලුත් සමතුලිත මිල කොපමණ ද ?

- (1) රු. 60
 - (2) රු. 55
 - (3) රු. 50
 - (4) රු. 45
 - (5) රු. 40
11. භාණ්ඩයක මිල රු. 40 සිට රු. 50 දක්වා ඉහළ යාම, එම භාණ්ඩය ඉල්ලුම් කරනු ලබන ප්‍රමාණය ඒකක 1,600 සිට ඒකක 1,400 දක්වා අඩු කිරීමට හේතු වේ යැයි සලකන්න. ඉල්ලුම් වක්‍රයේ මෙම පරාසය තුළ, ඉල්ලුමේ මිල නම්‍යතාව
 - (1) -6.0 කි.
 - (2) -3.0 කි.
 - (3) -0.7 කි.
 - (4) -0.6 කි.
 - (5) -0.3 කි.
 12. කිසියම් භාණ්ඩයක් සඳහා නිදහස් වෙළෙඳ පොළ සමතුලිත මිලට වඩා ඉහළ, සහතික කළ අවම මිලක් හඳුන්වාදීමේ දී ඊජයට දැරීමට සිදුවන පිරිවැය වඩාත් අධික වනුයේ,
 - (1) ඉල්ලුමත් සැපයුමත් යන දෙක ම මිල නම්‍ය වේ නම් ය.
 - (2) ඉල්ලුමත් සැපයුමත් යන දෙක ම මිල අනම්‍ය වේ නම් ය.
 - (3) ඉල්ලුම් මිල නම්‍ය වී සැපයුම් මිල අනම්‍ය වේ නම් ය.
 - (4) ඉල්ලුම් මිල අනම්‍ය වී සැපයුම් මිල නම්‍ය වේ නම් ය.
 - (5) ඉල්ලුමත් සැපයුමත් යන දෙක ම ඒකීය මිල නම්‍යතාවකින් යුක්ත වේ නම් ය.

13. පහත දැක්වෙන රූප සටහන X භාණ්ඩය සඳහා ඇති වෙළෙඳ පොළ නිරූපණය කරයි. තරඟකාරී වෙළෙඳ පොළ සමතුලිතය E ලක්ෂ්‍යය වේ. රජය විසින් X භාණ්ඩයේ නිෂ්පාදනය මත ඒකක බද්දක් පනවනු ලැබේ යැයි සලකන්න.



බද්ද නිසා රජය උපයාගත් ආයතාරය සහ අහිමි වූ සුබසාධනය ප්‍රස්තාරයේ කවර ප්‍රදේශයකින් පෙන්වුම් කෙරේ ද ?

	බදු ආයතාරය	අහිමි වූ සුබසාධනය
(1)	PNFT	FTE
(2)	ONFQ	KTE
(3)	JPTK	KFE
(4)	JNFK	KFE
(5)	JNFK	KTE

14. තරඟකාරී වෙළෙඳ පොළක ඒකතරා භාණ්ඩයක සමතුලිත මිල ඒකකයක් රු. 50 ක් බව සලකන්න. දැන් මෙම වෙළෙඳ පොළට රජය මැදිහත්ව ඒකකයක් රු. 60ක් ලෙස අවම මිලක් පනවනු ලබයි. වෙළෙඳ පොළෙහි එක ගැනුම්කරුවකුගේ ඉල්ලුම් ශ්‍රිතය $Q_d = 240 - 3P$ නම් අවම මිල, එම ගැනුම්කරුවාගේ පාරිභෝගික අතිරික්තයට කරනු ලබන බලපෑම කුමක් ද?

- (1) රු. 600කින් වැඩි වේ.
- (2) රු. 600කින් අඩු වේ.
- (3) රු. 750කින් වැඩි වේ.
- (4) රු. 750කින් අඩු වේ.
- (5) රු. 1350කින් අඩු වේ.

15. කෙටි කාලයේ දී නිෂ්පාදන ආයතනයක් විසින් විවිධ නිමැවුම් මට්ටම් සඳහා දරනු ලබන මුළු පිරිවැය පහත දැක්වෙන වගුව පෙන්වුම් කරයි.

නිමැවුම් මට්ටම	මුළු පිරිවැය (රු.)	නිමැවුම් මට්ටම	මුළු පිරිවැය (රු.)
0	100	4	160
1	120	5	190
2	130	6	238
3	138	7	296

මෙම තොරතුරුවලට අනුව නිමැවුම් ඒකක 6 ක් නිෂ්පාදනය කිරීමේ දී සාමාන්‍ය විචල්‍ය පිරිවැය කොපමණ වේ ද ?

- (1) රු. 23
- (2) රු. 28
- (3) රු. 35
- (4) රු. 36
- (5) රු. 48

16. කෙටි කාලයේ දී පූර්ණ තරඟකාරී ආයතනයක්, එම ආයතනයේ ලාභ උපරිම කෙරෙන නිමැවුම් ප්‍රමාණය ලෙස ඒකක 1,000 ක් නිපදවන විට වෙළෙඳ පොළ මිල ඒකකයක් රු. 120 ක් ද, ඒකකයක විචල්‍ය පිරිවැය රු. 100ක් ද, ඒකකයක ස්ථාවර පිරිවැය රු. 40ක් ද වේ. අනෙකුත් කරුණු නො වෙනස් ව පවතී නම්, මෙම ආයතනයේ කෙටි කාලීන හැසිරීම විය යුත්තේ,

- (1) පිරිවැය අඩුකර ගැනීම සඳහා නිමැවුම අඩු කිරීම ය.
- (2) රු. 140කට වඩා වැඩි ප්‍රමාණයකින් ඒකකයක මිල වැඩි කිරීම ය.
- (3) ආයතනය කෙටි කාලයෙහි කටයුතු කරන බැවින් නිෂ්පාදනය අඛණ්ඩව පවත්වාගෙන යාම ය.
- (4) සාමාන්‍ය ස්ථාවර පිරිවැය අඩු කර ගැනීම සඳහා නිමැවුම වැඩි කිරීම ය.
- (5) සාමාන්‍ය මුළු පිරිවැය වෙළෙඳ පොළ මිලට වඩා ඉහළින් පවත්නා බැවින් වහාම වසා දැමීම ය.

17. කෙටි කාලයේ දී පූර්ණ තරඟකාරී ආයතනයක් සඳහා පහත සඳහන් කවරක් නිවැරදි වේ ද ?

- (1) ආයතනය සෑම විට ම ධනාත්මක ආර්ථික ලාභ උපයයි.
- (2) ආයතනය සෑම විට ම ප්‍රාමාණික ලාභ උපයයි.
- (3) සාමාන්‍ය මුළු පිරිවැයට වඩා මිල පහළ වැටෙන විට ආයතනය වසා දමයි.
- (4) මිල ආන්තික අයහාරයට සමාන වන ලක්ෂ්‍යයෙහි නිෂ්පාදනය කරමින් ආයතනය ලාභ උපරිම කරයි.
- (5) ආයතනය සෘණාත්මක හෝ ධනාත්මක හෝ ප්‍රාමාණික හෝ ලාභ ඉපැයීමට පුළුවන.

18. පහත දැක්වෙන ශ්‍රී ලංකාවේ කර්මාන්ත අතුරින් වඩාත් ඒකාධිකාරී තරඟ කර්මාන්තයක් විය හැක්කේ කවරක් ද ?
 (1) ටයර නිෂ්පාදනය (2) රූපවාහිනී විකාශනය (3) සිසිල් බීම
 (4) ප්‍රවෘත්ති පත්‍ර (5) රූපලාවන්‍යාගාර
19. පහත සඳහන් දෑ අතුරින් ආර්ථික පසුබැසීමක (ප්‍රතිගමනයක) ලක්ෂණයක් නොවනුයේ කුමක් ද?
 (1) ආයෝජනය සහ සේවා නියුක්තිය පහළ බැසීම ය.
 (2) යෙදවුම් සඳහා ඉල්ලුම වැඩි වීම නිසා යෙදවුම් මිල ඉහළ යාම ය.
 (3) ආයෝජකයන්ගේ විශ්වාසනීයත්වය බිඳ වැටීම ය.
 (4) භාණ්ඩ හා සේවා සඳහා ඉල්ලුම පහත වැටීම ය.
 (5) කර්මාන්තවල අතිරික්ත නිෂ්පාදන ධාරිතාවක් පැවතීම ය.
20. වී ගොවියෙක් තම වී තොගය රු. 10,000 කට සහල් මෝල්කරුවකුට අලෙවි කරන අතර, සහල් මෝල්කරුවා ඒවා සහල් පිරි මෝල්කරුවකුට රු. 12,000 කට අලෙවි කරයි. පිරි මෝල්කරුවා එම පිරි නුඬිල්ස් නිෂ්පාදකයෙකුට රු. 15,000 කට අලෙවි කරන අතර, නුඬිල්ස් නිෂ්පාදකයා එම නුඬිල්ස් රු. 20,000 කට පාරිභෝගිකයන්ට අලෙවි කරයි. මෙම නිෂ්පාදන ක්‍රියාවලියේ දී සහල් මෝල්කරු හා නුඬිල්ස් නිෂ්පාදකයා යන දෙදෙනා විසින් බිහිකරනු ලබන මුළු එකතු කළ අගය කොපමණ ද?
 (1) රු. 10,000 (2) රු. 7,000 (3) රු. 5,000 (4) රු. 3,000 (5) රු. 2,000
21. ආදායම් ප්‍රවේශය ඔස්සේ දළ ජාතික ආදායම ඇස්තමේන්තු කිරීමේ දී ඇතුළත් නොකෙරෙනුයේ පහත සඳහන් දෑ අතුරින් කවරක් ද ?
 (1) සේවක ආදායම්
 (2) මිශ්‍ර ආදායම
 (3) ස්ථාවර ප්‍රාග්ධන පරිභෝජනය
 (4) නිෂ්පාදනය මත වෙනත් බදු අඩු කළා එම සහනාධාර
 (5) සේවක අර්ථසාධක අරමුදලට සේවකයන්ගේ දායකත්ව මුදල
22. 2019 වර්ෂයේ දී, පවත්නා වෙළෙඳ පොළ මිල යටතේ ශ්‍රී ලංකාවේ දළ දේශීය නිෂ්පාදිතය ඇමෙරිකානු ඩොලර් ,
 (1) බිලියන 79 කි. (2) බිලියන 80 කි. (3) බිලියන 83 කි.
 (4) බිලියන 84 කි. (5) බිලියන 88 කි.
23. පහත සඳහන් ගුණක අතර සම්බන්ධතා අතුරින් නිවැරදි සම්බන්ධතාව වන්නේ කවරක් ද ?
 (1) ආයෝජන ගුණකය > බදු ගුණකය = තුලිත අයවැය ගුණකය
 (2) බදු ගුණකය = ආයෝජන ගුණකය < තුලිත අයවැය ගුණකය
 (3) බදු ගුණකය > ආයෝජන ගුණකය > තුලිත අයවැය ගුණකය
 (4) බදු ගුණකය > ආයෝජන ගුණකය = තුලිත අයවැය ගුණකය
 (5) ආයෝජන ගුණකය > බදු ගුණකය > තුලිත අයවැය ගුණකය
24. රාජ්‍ය අංශයක් නොමැති සංවෘත ආර්ථිකයක සමාහාර ඉතුරුම් ශ්‍රිතය (S) = -100 + 0.25Y සහ ආයෝජනය (I) රුපියල් මිලියන 800ක් ද වේ යැයි සලකන්න. මෙම ආර්ථිකයේ සමතුලිත ජාතික ආදායම් මට්ටම කොපමණ ද ?
 (1) රුපියල් මිලියන 1,200 (2) රුපියල් මිලියන 2,800
 (3) රුපියල් මිලියන 3,200 (4) රුපියල් මිලියන 3,600
 (5) රුපියල් මිලියන 3,900
25. වක්‍රීය ආදායම් ප්‍රවාහයේ කාන්දුවීමකට උදාහරණයක් වන්නේ පහත සඳහන් කවරක් ද ?
 (1) ආයෝජන (2) සංක්‍රාම (3) ආනයන
 (4) ආණ්ඩුවේ මිල දී ගැනීම් (5) අපනයන
26. යම් දෙන ලද අවස්ථාවක කිසියම් රටක පොදු මිල මට්ටම තුන් ගුණයකින් වැඩි වූයේ යැයි සලකන්න. එම කාලය තුළ එක්තරා කුටුම්භයක ආදායම රු. 40,000 සිට රු. 80,000 දක්වා වැඩි විය. මෙම කුටුම්භයේ නාමික හා මූර්ත ආදායමට කුමක් වී ද ?

	නාමික ආදායම	මූර්ත ආදායම
(1)	වැඩි විය.	අඩු විය.
(2)	අඩු විය.	අඩු විය.
(3)	වැඩි විය.	වැඩි විය.
(4)	අඩු විය.	වැඩි විය.
(5)	වැඩි විය.	වෙනස් නොවීය

27. කුටුම්භ විසින් වත්කමක් වශයෙන් මුදල් ශේෂ වැඩියෙන් ඉල්ලුම් කරනුයේ,

- (1) පොදු මිල මට්ටම ඉහළ නගින විට ය.
- (2) නාමික ජාතික ආදායම පහළ වැටෙන විට ය.
- (3) නාමික ජාතික ආදායම ඉහළ නගින විට ය.
- (4) නාමික පොලී අනුපාතිකය පහළ වැටෙන විට ය.
- (5) පිළිනපත් මිල පහළ වැටෙන විට ය.

28. පහත සඳහන් දෑ අතුරින් වඩාත් ද්‍රවශීල වනුයේ කවරක් ද ?

- (1) ස්ථාවර තැන්පතු
- (2) ආණ්ඩුවේ සුරැකුම්පත්
- (3) ඉල්ලුම් තැන්පතු
- (4) මූර්ත දේපල
- (5) සමාගම්වල කොටස්

29. ගනුදෙනුකරුවෙක් වාණිජ බැංකුවක රු. මිලියන 400ක් තැන්පත් කරන බවත්, බැංකුව එම තැන්පතුව වෙනුවෙන් රු. මිලියන 80ක ව්‍යවස්ථාපිත සංචිතයක් තබාගන්නා බවත් සලකන්න. මෙහි දී අනෙකුත් කරුණු නො වෙනස් ව පවතී නම්, වාණිජ බැංකුව සතුව කොතරම් අධි සංචිත පවතී ද ? තැන්පතු ගුණකයේ විශාලත්වය කොපමණ ද ?

	අධි සංචිත (රු.මිලියන)	තැන්පතු ගුණකය
(1)	400	0.02
(2)	400	0.2
(3)	320	20.0
(4)	320	5.0
(5)	320	0.2

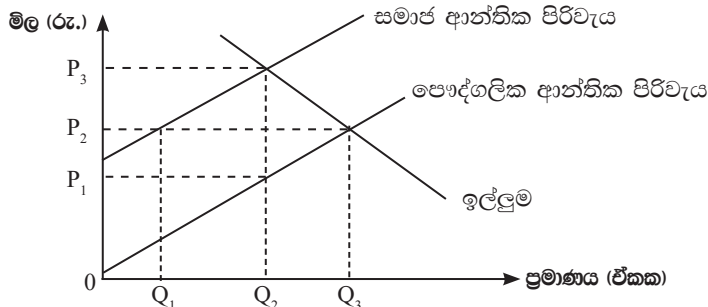
30. පහත සඳහන් කවරක ප්‍රතිඵලයක් වශයෙන් මුදල් සැපයුම වැඩි වන්නේ ද ?

- (1) නිත්‍ය තැන්පතු පහසුකම් අනුපාතිකයේ (SDFR) ඉහළ නැගීමක්
- (2) මහ බැංකුව විසින් වාණිජ බැංකුවලට පිළිනපත් අලෙවි කිරීමක්
- (3) වට්ටම් අනුපාතිකය ඉහළ නැගීමක්
- (4) මහ බැංකුවේ විදේශ වත්කම් පහළ වැටීමක්
- (5) ව්‍යවස්ථාපිත සංචිත අනුපාතය පහළ වැටීමක්

31. පොදු සම්පත්වල ප්‍රධාන ලක්ෂණ වනුයේ,

- (1) පරිභෝජනයේ තරඟකාරීත්වය හා බැහැර කළ නොහැකි වීම ය.
- (2) පරිභෝජනයේ තරඟකාරීත්වයක් නොමැතිකම හා බැහැර කළ හැකි වීම ය.
- (3) පරිභෝජනයේ තරඟකාරීත්වයක් නොමැතිකම හා බැහැර කළ නොහැකි වීම ය.
- (4) නියාමනය කළ හැකි වීම හා බැහැර කළ හැකි වීම ය.
- (5) පරිභෝජනයේ තරඟකාරීත්වය හා බැහැර කළ හැකි වීම ය.

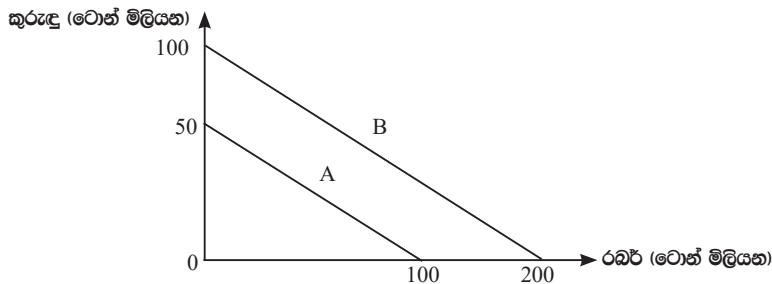
32. පෞද්ගලික සහ සමාජ ආන්තික පිරිවැය වක්‍ර, වෙළෙඳ පොළ ඉල්ලුම් වක්‍රයන් පහත රූපසටහන පෙන්වුම් කරයි.



මෙම වෙළෙඳ පොළ නියාමනයකින් තොර නිදහස් වෙළෙඳ පොළක් වේ නම්, එහි

- (1) නිමැවුම් මට්ටම සමාජයේ වශයෙන් ප්‍රශස්ත වන නමුදු මිල ඉතා අඩු අගයක් ගනියි.
- (2) නිමැවුම් මට්ටම සමාජයේ වශයෙන් ප්‍රශස්ත මට්ටමට වඩා අඩු නමුදු මිල ඉතා අඩු අගයක් ගනියි.
- (3) සම්පත් බෙදා වෙන් කිරීම ඉතා කාර්යක්ෂම වනු ඇත.
- (4) අවශ්‍ය ප්‍රමාණයට වඩා වැඩි ප්‍රමාණයක් නිෂ්පාදනය කරනු ඇත.
- (5) අවශ්‍ය ප්‍රමාණයට වඩා අඩු ප්‍රමාණයක් නිෂ්පාදනය කරනු ඇත.

33. අයවැය ලේඛනයේ ප්‍රාථමික ශේෂය යනු,
- (1) ආණ්ඩුවේ මුළු වියදම සහ මුළු පුනරාවර්තන වියදම අතර වෙනස ය.
 - (2) ආණ්ඩුවේ අයවැය හිඟය සහ ණය සේවා ගෙවීම් අතර වෙනස ය.
 - (3) මුළු අයභාරය සහ ණය සඳහා පොලී ගෙවීම් ඇතුළත් මුළු වියදම අතර වෙනස ය.
 - (4) දීමනා ඇතුළත් මුළු අයභාරය සහ ණය සඳහා පොලී ගෙවීම් ඇතුළත් මුළු ප්‍රාග්ධන වියදම අතර වෙනස ය.
 - (5) දීමනා ඇතුළත් මුළු අයභාරය සහ ණය සඳහා පොලී ගෙවීම් ඇතුළත් මුළු පුනරාවර්තන වියදම අතර වෙනස ය.
34. 2019 වර්ෂයේ දී ශ්‍රී ලංකා මධ්‍යම රජයේ නොපිය වූ මුළු දේශීය හා විදේශීය ණය ප්‍රමාණයන් දළ දේශීය නිෂ්පාදිතයේ ප්‍රතිශතයක් වශයෙන් පිළිවෙළින්,
- (1) 44.1% ක් සහ 42.6% ක් විය.
 - (2) 48.2% ක් සහ 40.3% ක් විය.
 - (3) 35.4% ක් සහ 46.6% ක් විය.
 - (4) 42.7% ක් සහ 38.4% ක් විය.
 - (5) 42.2% ක් සහ 30.0% ක් විය.
35. පහත සඳහන් දෑ අතුරින් සැපයුම් පාර්ශ්වයේ ප්‍රතිපත්තියක් ලෙස සැලකිය හැක්කේ කවරක් ද ?
- (1) ආණ්ඩුවේ අයවැය හිඟය අඩු කිරීම.
 - (2) ආයෝජනය දිරිමත් කිරීමට ව්‍යාපාර සඳහා ආයෝජන බදු සහන ලබා දීම.
 - (3) ආනයන භාණ්ඩ මත තීරු බදු පැනවීම.
 - (4) පෞද්ගලික හිමිකම් සහිත ව්‍යාපාර රාජ්‍ය අංශය වෙත පැවරීම.
 - (5) සමාහාර වියදමේ ඉහළ යාමක් ඇතිවන අන්දමින් ආණ්ඩුවේ වියදම් ඉහළ නැංවීම.
36. A හා B රටවල් දෙකට අදාළ නිෂ්පාදන හැකියා වනු පහත රූපසටහන පෙන්නුම් කරයි. A රටට රබර් ටොන් මිලියන 100 ක් හෝ කුරුඳු ටොන් මිලියන 50 ක් හෝ නිෂ්පාදනය කළ හැකි ය. B රටට රබර් ටොන් මිලියන 200 ක් හෝ කුරුඳු ටොන් මිලියන 100 ක් හෝ නිෂ්පාදනය කළ හැකි ය.



සාපේක්ෂ වාසි න්‍යායට අනුව,

- (1) විශේෂ ප්‍රාගුණ්‍යය කිරීමෙන් රටවල් දෙකට ම ප්‍රතිලාභ ලැබිය හැකි වේ.
 - (2) කුරුඳු නිෂ්පාදනයේ A රටට වඩා B රටෙහි ආවේණික පිරිවැය වැඩි වේ.
 - (3) කුරුඳු නිෂ්පාදනයේ B රටට වඩා A රටෙහි ආවේණික පිරිවැය වැඩි වේ.
 - (4) B රට A රටට කුරුඳු අපනයනය කරයි.
 - (5) A රට සහ B රට අතර වෙළෙඳාමක් සිදුවිය නොහැකි ය.
37. ශ්‍රී ලංකාවේ ආනයන සංයුතියේ වර්තමාන තත්ත්වය නිවැරදිව පෙන්නුම් කෙරෙනුයේ පහත සඳහන් කවර වරණයෙහි ද ?

	පාරිභෝගික භාණ්ඩ	අතරමැදි භාණ්ඩ	ආයෝජන භාණ්ඩ
(1)	20%	57%	23%
(2)	22%	60%	18%
(3)	24%	45%	31%
(4)	25%	51%	24%
(5)	28%	49%	23%

38. පහත සඳහන් වගුව කිසියම් රටක සය අවුරුදු කාල පරිච්ඡේදයක් සඳහා වාර්තා වූ අපනයන මිල දර්ශකය සහ ආනයන මිල දර්ශකය පෙන්නුම් කරයි.

අවුරුදු	අපනයන මිල දර්ශකය	ආනයන මිල දර්ශකය	අවුරුදු	අපනයන මිල දර්ශකය	ආනයන මිල දර්ශකය
1	100	100	4	116	120
2	105	108	5	129	129
3	112	110	6	150	130

ප්‍රථම වර්ෂයට සාපේක්ෂව වෙළෙඳ අනුපාතය වඩා වාසිදායක වූයේ කවර වර්ෂයේ දී ද ?

- (1) 2 වන වර්ෂය
- (2) 3 වන වර්ෂය
- (3) 4 වන වර්ෂය
- (4) 5 වන වර්ෂය
- (5) 6 වන වර්ෂය

39. ශ්‍රී ලාංකික ආයෝජකයෙකු විසින් ජපාන නිෂ්පාදන සමාගමක ඩොලර් මිලියන 10ක් වටිනා කොටස් මිල දී ගනු ලැබුවේ යැයි සලකන්න. මෙම ගනුදෙනුව ද්විත්ව සටහන් මූලධර්මයට අනුව ශ්‍රී ලංකාවේ ගෙවුම් ශේෂයේ වාර්තා කරනුයේ කෙසේ ද ?

	හර	බර
(1)	ප්‍රාග්ධන ගිණුම	ප්‍රාථමික ආදායම් ගිණුම
(2)	වෙනත් ආයෝජන ගිණුම	කළඹ ආයෝජන ගිණුම
(3)	කළඹ ආයෝජන ගිණුම	වෙනත් ආයෝජන ගිණුම
(4)	මූල්‍ය ව්‍යුත්පන්න ගිණුම	සෘජු ආයෝජන ගිණුම
(5)	ප්‍රාග්ධන ගිණුම	කළඹ ආයෝජන ගිණුම

40. කිසියම් රටක ගෙවුම් ශේෂ ලේඛනයකින් තෝරාගනු ලැබූ දත්ත කිහිපයක් පහත වගුවේ දැක් වේ.

අයිතමය	රුපියල් බිලියන
අපනයන (භාණ්ඩ)	600
ආනයන (භාණ්ඩ)	800
සේවා (ශුද්ධ)	30
ප්‍රාථමික ආදායම (ශුද්ධ)	-80
ද්විතීයික ආදායම (ශුද්ධ)	150
ප්‍රාග්ධන ගිණුම (ශුද්ධ)	60

වගුවේ දක්වා ඇති තොරතුරුවලට අනුව, මෙම රටේ ගෙවුම් ශේෂ තත්ත්වය පිළිබඳව පහත සඳහන් කවර ප්‍රකාශයක් නිවැරදි වේ ද ?

- (1) රුපියල් බිලියන 180 ක වෙළෙඳ ශේෂ හිඟයක් පවතී.
- (2) රුපියල් බිලියන 140 ක ප්‍රාග්ධන හා මූල්‍ය ගිණුම් අතිරික්තයක් පවතී.
- (3) රුපියල් බිලියන 100 ක අතිරික්තයක් ජංගම ගිණුමෙහි පවතී.
- (4) රුපියල් බිලියන 40 ක හිඟයක් මූල්‍ය ගිණුමෙහි පවතී.
- (5) රුපියල් බිලියන 40 ක අතිරික්තයක් මූල්‍ය ගිණුමෙහි පවතී.

41. මාර්ෂල්-ලර්නර් කොන්දේසියට අනුව, විනිමය අනුපාතිකයේ ක්ෂයවීමකින් පසු ගෙවුම් ශේෂයේ ජංගම ගිණුම වැඩි දියුණු විය හැක්කේ පහත සඳහන් කවර තත්ත්වයක් යටතේ ද ?

- (1) ආනයන මිල නමයතාව = -0.6 සහ අපනයන මිල නමයතාව = -0.4
- (2) ආනයන මිල නමයතාව = -0.8 සහ අපනයන මිල නමයතාව = -0.7
- (3) ආනයන මිල නමයතාව = -0.3 සහ අපනයන මිල නමයතාව = -0.5
- (4) ආනයන මිල නමයතාව = -0.4 සහ අපනයන මිල නමයතාව = -0.2
- (5) ආනයන මිල නමයතාව = -0.6 සහ අපනයන මිල නමයතාව = -0.3

42. පාවෙන (නමය) විනිමය අනුපාතික ක්‍රමයක් යටතේ,

- (1) ගෙවුම් ශේෂය සෑමවිට ම අතිරික්තයක් වේ.
- (2) ගෙවුම් ශේෂය සෑමවිට ම හිඟයක් වේ.
- (3) ආර්ථිකය මුළුමනින් ම බාහිර බලපෑම්වලින් ආරක්ෂිත වේ.
- (4) විදේශ විනිමය සඳහා ඇති ඉල්ලුම හා සැපයුම සමාන කිරීමට විනිමය අනුපාතිකය හැඩගැසිය යුතු වේ.
- (5) විනිමය අනුපාතිකය තීරණය වීම කෙරෙහි බලපෑම් කිරීමට රජය මැදිහත් වේ.

43. වේගවත් ආර්ථික වෘද්ධි අනුපාතික අත්කර ගැනීම සඳහා දායක විය හැක්කේ පහත සඳහන් කවරකට ද ?

- (1) වඩාත් සීඝ්‍රයෙන් ස්වභාවික සම්පත් පරිභෝජනය කිරීම.
- (2) ආරක්ෂණවාදී වෙළෙඳ ප්‍රතිපත්ති
- (3) පර්යේෂණ හා සංවර්ධනය සඳහා රජයේ අරමුදල් වැඩි කිරීම.
- (4) පාරිභෝගික සහනාධාර ඉහළ නැංවීම.
- (5) කුටුම්භ සහ ආයතන මත ඉහළ බදු පැනවීම.

44. මානව සංවර්ධන දර්ශකය තුළට හසුකොට ගනු ලැබ ඇති ප්‍රධාන සමාජ ආර්ථික පැතිකඩවල් වනුයේ,

- (1) දීර්ඝ සහ නිරෝගී ජීවිතයක්, අධ්‍යාපනය සහ යහපත් ජීවන මට්ටමක් ය.
- (2) ආයු කාලය, වැඩිහිටි සාක්ෂරතාව සහ ප්‍රති ශීර්ෂ ආදායම ය.
- (3) පරිගණක සාක්ෂරතාව, සේවා නියුක්ති අනුපාතිකය සහ දරිද්‍රතා මට්ටම ය.
- (4) කැලරි පරිභෝජනය, ආදායම් අසමානතාව සහ මානව සම්පත් සංවර්ධනය ය.
- (5) ස්ත්‍රී පුරුෂ සමානාත්මතාව, පරිගණක සාක්ෂරතාව සහ ආහාර සුරක්ෂිතතාව ය.

45. 2010 සහ 2020 යන වර්ෂවල දී කිසියම් රටක ආදායම් ලබන්නන්ගේ ආදායම් පංගු, පංචමක අනුව පහත වගුවෙහි දැක් වේ.

වර්ෂය	1වන පංචමකය	2වන පංචමකය	3වන පංචමකය	4වන පංචමකය	5වන පංචමකය
2010	5%	10%	15%	25%	45%
2020	4%	8%	12%	26%	50%

මෙම වගුවට අනුව නිගමනය කළ හැක්කේ ගත වූ දස වසර තුළ,

- (1) රටේ සම්පත් බෙදා වෙන්කිරීමේ දියුණුවක් හටගෙන ඇති බව ය.
- (2) ආදායම් බෙදීයාම වඩාත් අසමාන වී ඇති බව ය.
- (3) ධනය බෙදීයාම වඩාත් අසමාන වී ඇති බව ය.
- (4) අඩු ආදායම් ලබන්නන්ගේ ආර්ථික තත්ත්වය උසස් වී ඇති බව ය.
- (5) අඩු ආදායම් ලබන්නන්ගේ ඵලදායීතාව පහළ වැටී ඇති බව ය.

46. වදන් සැකසුම් (word processing) ක්ෂේත්‍රය පරිගණක ආධිපත්‍යයට නතු වීමත් සමඟ පරිගණක නිපුණතාව නොමැති ඇතැම් යතුරුලියන ක්‍රියාකරුවන්ට ඔවුන්ගේ රැකියා අහිමි විය. මෙය පහත සඳහන් කවර විරැකියා තත්ත්වයකට උදාහරණයක් වේ ද ?

- (1) සාර්ථක සේවා විසුකූතිය
- (2) සැඟවුණු සේවා විසුකූතිය
- (3) ව්‍යුහමය සේවා විසුකූතිය
- (4) වාරික සේවා විසුකූතිය
- (5) වක්‍රීය සේවා විසුකූතිය

47. තිරසාර සංවර්ධනය යටතේ ආවරණය කෙරෙන ප්‍රධාන ක්ෂේත්‍ර තුන වනුයේ,

- (1) පරිසරය, ආර්ථිකය සහ සමාජයයි.
- (2) පරිසරය, ආර්ථිකය සහ සාධාරණත්වයයි.
- (3) පරිසරය, කුසගින්න සහ සමාජයයි.
- (4) පරිසරය, සාමය සහ දරිද්‍රතාවයයි.
- (5) පරිසරය, හවුල්කාරීත්වය සහ සමාජයයි.

48. පහත දැක්වෙන වගුවෙහි කල්පිත ආර්ථිකයක ශ්‍රම වෙළෙඳ පොළ තත්ත්වය සාරාංශ කොට දැක් වේ.

වර්ෂය	වැඩකරන වයසේ ජනගහනය (මිලියන)	සේවා නියුක්ත ජනගහනය (මිලියන)	සේවා විසුකූත ජනගහනය (මිලියන)
2018	50	24	6
2020	60	32	8

මෙම තොරතුරුවලට අනුව පහත සඳහන් කවර ප්‍රකාශයක් නිවැරදි වේ ද ?

- (1) 2018 සිට 2020 දක්වා සේවා විසුකූති අනුපාතිකය ඉහළ ගොස් ඇත.
- (2) 2018 සිට 2020 දක්වා සේවා විසුකූති අනුපාතිකය පහළ වැටී ඇත.
- (3) 2018 සිට 2020 දක්වා ශ්‍රම හමුදා සහභාගීත්ව අනුපාතිකය 60% සිට 67% ක් දක්වා වැඩි වී තිබේ.
- (4) 2018 සිට 2020 දක්වා ශ්‍රම හමුදා සහභාගීත්ව අනුපාතිකය පහළ වැටී ඇත.
- (5) 2018 සිට 2020 දක්වා ජනගහනය වර්ධනය වී ඇති නමුදු ශ්‍රම හමුදාව නො වෙනස් ව පැවතී ඇත.

49. රටවල් පිළිබඳ ආර්ථික වර්ගීකරණයට අනුව, ලෝක බැංකුව විසින් ශ්‍රී ලංකාව ඉහළ මැදි ආදායම් රටක තත්ත්වයට පත් කරනු ලැබුවේ කවර වර්ෂයේ දී ද ?

- (1) 2016
- (2) 2017
- (3) 2018
- (4) 2019
- (5) 2020

50. වර්තමානයේ ශ්‍රී ලංකාවේ අතිශයින් පාඩු ලබන රාජ්‍ය ව්‍යවසායන් තුන වනුයේ,

- (1) ලංකා විදුලිබල මණ්ඩලය, ජාතික ලොතරැයි මණ්ඩලය සහ රාජ්‍ය ඉංජිනේරු සංස්ථාවයි.
- (2) සීමාසහිත ශ්‍රී ලන්කන් ගුවන් සමාගම, ලංකා විදුලිබල මණ්ඩලය සහ ලංකා බනිජතෙල් සංස්ථාවයි.
- (3) සීමාසහිත ශ්‍රී ලන්කන් ගුවන් සමාගම, ශ්‍රී ලංකා වරාය අධිකාරිය සහ සීමාසහිත ලංකා සනොසයි.
- (4) ලංකා විදුලිබල මණ්ඩලය, ශ්‍රී ලංකා රක්ෂණ සංස්ථාව සහ රාජ්‍ය ඖෂධ සංස්ථාවයි.
- (5) ශ්‍රී ලංකා ගමනාගමන මණ්ඩලය, ජාතික ඉතිරි කිරීමේ බැංකුව සහ සීමාසහිත ලංකා සීනි සමාගමයි.